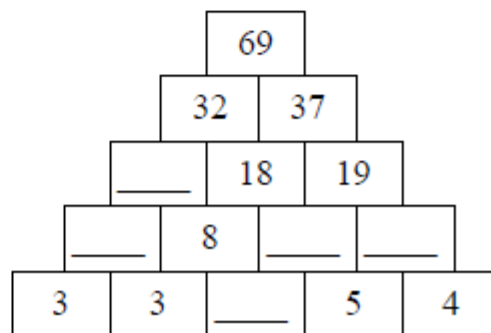
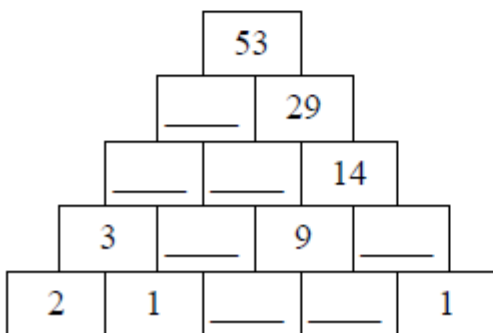
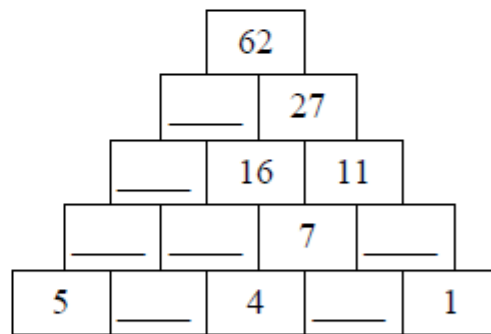
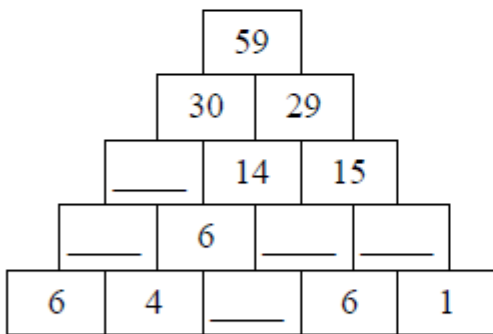
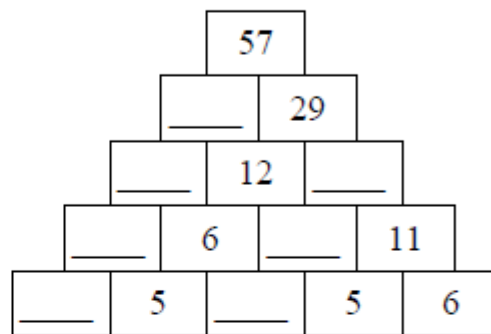
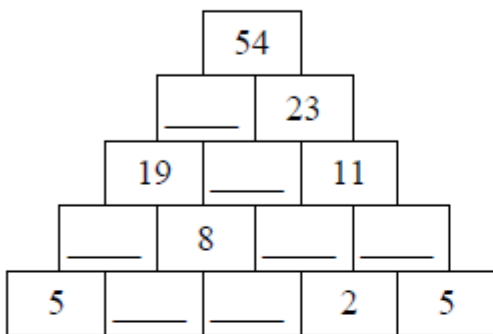
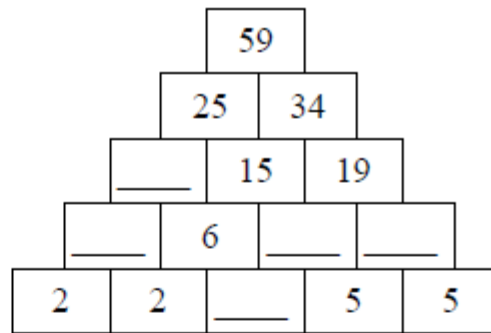
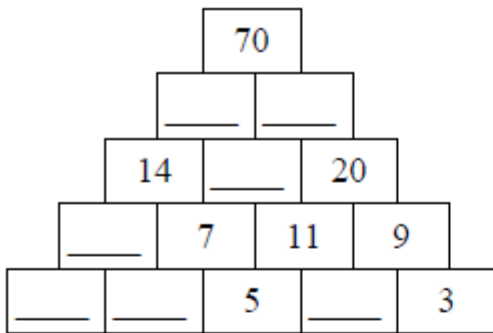


fiche n° 1

Pyramide additive



8 Pyramides additives


Le nombre d'une case de la pyramide est toujours égal à la somme des deux nombres écrits dans les deux cases de la ligne inférieure et qui jouxtent la case vide.

Mots Mêlés

6 lettres te permettront de reconstituer le nom du pays suggéré par l'illustration.

Mot à trouver : ○○○○○○

- | | | |
|--------------------|--------------------|--------------------|
| ANSE ↗ | FOUGERES ↓ | TROMPE → |
| ATTIRANCES → | INDIGNE → | UNIE ↓ |
| BAVEUSE ↓ | JUVENILE → | VAINEMENT → |
| BOUEE ↗ | LANCE → | VERGLACEES → |
| BRAILLARDE → | POPE ↓ | VULGAIRE → |
| BROC ↓ | PORTANT → | |
| CALANDRES → | PRESENTER ↓ | |
| CONCERTOS ↓ | PROFIT → | |
| DETACHEE → | SAUCIERES → | |
| EFFRONTES → | SIMPLISTES → | |
| ESCARPES ↓ | SOFA → | |
| EVEILLER → | TRAITRISE → | |



P B R A I L L A R D E T A C H E E C F
 P R O F I T P A T T I R A N C E S O O
 E O E F F R O N T E S O F A U S B N U
 G C Y S I M P L I S T E S O N C A C G
 L A N C E V E I L L E R B P I A V E E
 I N D I G N E V U L G A I R E R E R R
 P O R T A N T R A I T R I S E P U T E
 J U V E N I L E C A L A N D R E S O S
 T R O M P E V E R G L A C E E S E S T
 S A U C I E R E S V A I N E M E N T E

Trouve le nom des objets

Claude décrocha le combiné de l'appareil, attendit la tonalité et composa le numéro désiré... De quel appareil s'agit-il ?

.....

Ludovic pianotait depuis plusieurs minutes sur son clavier, jetant de temps en temps un coup d'oeil à l'écran... Sur quel appareil pianote Ludovic ?

.....

Il ne cessait son petit bruit répétitif, égrenant le temps. J'aurais voulu le jeter par la fenêtre, mais alors qui me réveillerait demain... Quel objet voulais-je jeter ?

.....

Il ne cessait d'appuyer sur les boutons... et l'écran valsait d'une image à l'autre... d'un fragment de film à une publicité quelconque... Sur les boutons de quel objet ?

.....

Les élèves dressaient le pâle objet blanc et doux, attendaient l'instant où leur maître leur donnerait le signal d'écrire sur l'ardoise le produit de la multiplication donnée... De quel objet s'agit-il ?

.....

Pierre se demandait pourquoi sa tante se couvrait le doigt d'un drôle de petit chapeau argenté à chaque fois qu'elle cousait... Quel est donc ce drôle de petit chapeau ?

.....

Maintenant qu'elle était vide, sans la moindre goutte d'encre, David la coupa en deux avec ses ciseaux afin d'en extraire la petite bille de plastique qui s'y trouvait... Que coupa David ?

.....

Lorsque Yoann entra, il y frotta énergiquement ses chaussures, les poils drus retenant la terre qui s'accrochait encore à ses semelles. Maman l'avait déposé sur le seuil de l'entrée pour cela, pour éviter toute trace... Quel objet a des poils drus ?

.....

fiche n°4

Lecture

Lis chaque histoire et entoure ou écris ce que l'on te demande.

1) Mes quatre enfants jouent au Monopoly. C'est Paul qui distribue les cartes. François donne l'argent. Loïc jette les dés. Paule observe le début du jeu. Ils s'amuse beaucoup !

Mes quatre enfants sont : 4 filles 2 garçons et 2 filles 3 garçons et une fille

2) J'achète ma place. Je rentre dans la salle déjà noire. Je me dirige vers un fauteuil. Quelques instants plus tard, l'écran s'illumine. Les publicités défilent. Je suis arrivée juste à temps pour le début de la séance.

Où suis-je ?

Qui suis-je ? un garçon une fille

3) Je vis dans l'océan pacifique. Je peux être apprivoisé. Dans les zoos marins, tu peux me voir accomplir des acrobaties, propulsant mon corps énorme de couleur noire et blanche hors de l'eau pour attraper du poisson que le dresseur me tend.

Qui suis-je ? un dauphin une baleine un orque un requin un phoque

4) Maman demande à Nathan d'ôter ses vêtements pour qu'on puisse l'ausculter et écouter sa respiration.

Où se trouve Nathan ?

5) Dans la prairie de mon voisin, il y a Marguerite avec ses cornes pointues, Blanchette avec sa belle robe blanche et noire et Hortense avec les pis gonflés de lait. Elles étaient les seules à brouter l'herbe de l'hiver.

De quels animaux s'agit-il ?

Combien y en a-t-il ?

6) Ce matin, la voiture ne démarrait pas. Le facteur glisse sur le trottoir. Nos rosiers sont givrés.

Quand la voiture n'a-t-elle pas démarré ?

Que s'est-il passé cette nuit ?

7) Assise dans un fauteuil d'orchestre, j'attends avec impatience en lisant le programme. Enfin, les trois coups retentissent. Les lumières s'éteignent. Le premier acte commence.

Où suis-je ?

fiche n°5

Quelle heure est-il ?

Ecris l'heure du matin et de l'après-midi sous chaque horloge.



il est 10h53



il est _____



il est _____



il est _____



il est _____



il est _____



il est _____



il est _____



il est _____



il est _____



il est _____



il est _____



il est _____



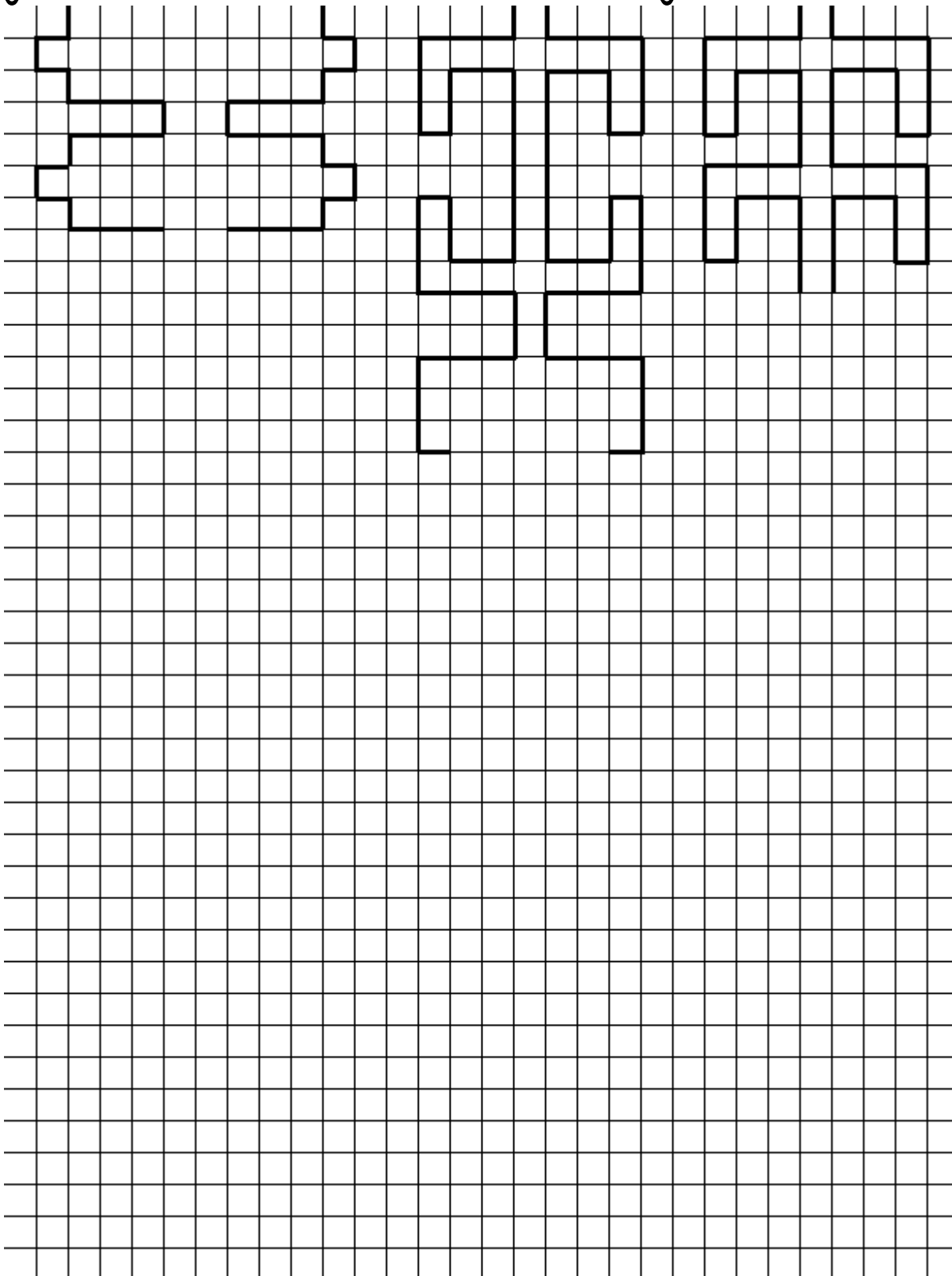
il est _____



il est _____

fiche n°6

Les frises



- 4: BLEU
- 5: MARRON
- 6: VIOLET
- 7: ROUGE
- 8: ORANGE
- 9: JAUNE

A large hand-shaped coloring page where each section contains a multiplication problem. The problems are as follows:

- Hand: $11 \times \square = 44$, $5 \times \square = 35$, $9 \times \square = 63$, $7 \times \square = 56$, $6 \times \square = 48$, $3 \times \square = 27$, $11 \times \square = 99$, $11 \times \square = 66$, $10 \times \square = 90$, $3 \times \square = 24$, $11 \times \square = 66$, $3 \times \square = 27$, $7 \times \square = 63$, $7 \times \square = 49$, $4 \times \square = 24$, $5 \times \square = 40$, $4 \times \square = 32$, $3 \times \square = 18$, $5 \times \square = 40$, $8 \times \square = 56$, $7 \times \square = 63$, $4 \times \square = 16$, $10 \times \square = 60$, $2 \times \square = 14$, $4 \times \square = 16$, $3 \times \square = 21$, $6 \times \square = 24$, $1 \times \square = 4$, $8 \times \square = 56$, $11 \times \square = 55$, $13 \times \square = 65$, $9 \times \square = 36$, $6 \times \square = 30$, $11 \times \square = 55$, $13 \times \square = 52$, $1 \times \square = 4$, $2 \times \square = 10$, $6 \times \square = 30$, $8 \times \square = 32$, $6 \times \square = 24$, $2 \times \square = 10$, $6 \times \square = 24$, $3 \times \square = 24$, $7 \times \square = 42$, $12 \times \square = 48$, $5 \times \square = 20$, $12 \times \square = 84$, $3 \times \square = 24$, $7 \times \square = 42$, $5 \times \square = 20$, $12 \times \square = 84$, $6 \times \square = 42$, $9 \times \square = 81$, $8 \times \square = 72$
- Wrist: $3 \times \square = 12$, $2 \times \square = 16$, $6 \times \square = 42$, $2 \times \square = 8$
- Forearm: $5 \times \square = 30$, $10 \times \square = 80$, $4 \times \square = 36$, $4 \times \square = 28$, $8 \times \square = 64$, $9 \times \square = 54$
- Elbow: $8 \times \square = 48$, $5 \times \square = 45$
- Upper Arm: $7 \times \square = 63$, $7 \times \square = 63$
- Shoulder: $7 \times \square = 63$, $5 \times \square = 45$
- Upper Back: $7 \times \square = 63$, $6 \times \square = 36$, $7 \times \square = 28$
- Lower Back: $4 \times \square = 16$, $10 \times \square = 40$, $13 \times \square = 65$
- Lower Back: $11 \times \square = 55$, $13 \times \square = 52$
- Lower Back: $8 \times \square = 32$
- Lower Back: $6 \times \square = 30$, $8 \times \square = 32$
- Lower Back: $2 \times \square = 10$, $6 \times \square = 30$, $8 \times \square = 32$
- Lower Back: $6 \times \square = 24$, $3 \times \square = 24$, $7 \times \square = 42$
- Lower Back: $5 \times \square = 20$, $12 \times \square = 84$, $3 \times \square = 24$, $7 \times \square = 42$
- Lower Back: $6 \times \square = 42$, $9 \times \square = 81$, $8 \times \square = 72$

fiche n°8 Les enquêtes de Lafouine

1) Tombes en vrac.

Le maire de Saint-Rémi est en colère. « *Un vandale a saccagé deux tombes dans le cimetière, explique-t-il à l'inspecteur Lafouine. Il a soulevé de grosses dalles en pierre puis a éparpillé des morceaux un peu partout.* »

René, le gardien, est le premier suspect. Petit et maigre, on le soupçonne d'en vouloir au maire.

Marie a été vue en train de rôder près des tombes. A quatre-vingts ans, elle continue de faire ses cinq kilomètres de marche tous les jours.

Lucas, un ancien bûcheron, a souvent des problèmes avec la police à cause de son penchant pour l'alcool.

QUI A SACCAGE LES TOMBES _____

2) Le coupable habite l'immeuble.

Un bureau de poste a été attaqué par un individu cagoulé. Sous la menace d'un revolver, il a demandé le contenu du coffre puis s'est enfui en courant. Les policiers ont retrouvé l'arme et la cagoule dans les poubelles d'un petit immeuble. L'inspecteur Lafouine étudie la liste des locataires de cet immeuble.

Au rez-de-chaussée vit un étudiant qui est en deuxième année à la faculté de médecine.

Un petit grand-père loge au premier étage. Il fait la collection des armes à feu.

Un italien, qui vient d'arriver en France pour apprendre le français, occupe le dernier étage.

QUI L'INSPECTEUR LAFOUINE SOUPCONNE-T-IL _____

3) Mystère au camping.

Le patron du camping de la plage demande à l'inspecteur Lafouine de retrouver celui qui a tordu, la nuit dernière, la barrière métallique, toute neuve de l'entrée.

Le policier interroge les vacanciers dont les véhicules portent des traces d'accrochage.

La voiture de Vincent a le côté droit tout enfoncé. Les portes ne s'ouvrent plus.

L'avant du camping-car de Romain est cabossé sur toute sa longueur.

Sébastien n'a plus de phare sur sa moto.

Les pare-chocs de la camionnette de Philippe sont en piteux état. On remarque de nombreuses traces de rouille.

QUI A TORDU LA BARRIERE AVEC SON VEHICULE ? _____

4) Vite fait, bien fait.

Un tableau d'une grande valeur a été dérobé dans un musée. L'inspecteur Lafouine enquête et découvre que le voleur a utilisé une gouttière pour grimper jusqu'au deuxième étage. Des témoins assurent qu'ils ont vu l'inconnu s'enfuir à toute vitesse avec la toile sous le bras. Le policier soupçonne trois malfaiteurs. / Raymond se défend en disant : « *j'ai passé toute la journée à m'occuper de mon arrière-petit-fils qui vient d'avoir deux ans.* » / Philippe s'explique calmement : « *je me suis promené avec mon chien au jardin des plantes puis je suis rentré laver ma moto.* »


Maurice lève son unique bras au ciel et lâche : « *j'en ai assez qu'on m'accuse tout le temps !* »

QUI A VOLE LE TABLEAU ? _____

Fiche n°9 Colorie le mandala



Les capitales européennes



Horizontalement

- 1. Capitale de la Suède.
- 4. Capitale de l'Espagne.
- 7. Capitale du Luxembourg.
- 9. Capitale de la France.
- 10. Capitale de la Grande-Bretagne.
- 12. Capitale de la Slovaquie.
- 15. Capitale de Malte.(2mots)
- 18. Capitale de la Pologne.
- 19. Capitale de l'Italie.
- 20. Capitale de la Lettonie.
- 21. Capitale de l'Autriche.
- 22. Capitale de la Grèce.

Verticalement

- 2. Capitale du Danemark.
- 3. Capitale de la Norvège.
- 5. Capitale de l'Irlande.
- 6. Capitale de la Lituanie.
- 8. Capitale de la Belgique.
- 9. Capitale de la République Tchèque.
- 11. Capitale de Chypre.
- 12. Capitale de la Hongrie.
- 13. Capitale des Pays-Bas.
- 14. Capitale de la Finlande.
- 16. Capitale de l'Estonie.
- 17. Capitale de l'Allemagne.

fiche n°11

Que font-ils ?

Trouve ce que font les personnes dans chaque texte

Il plantait prudemment ses bâtons dans la poudreuse, et glissait tel un slalomeur en évitant les sapins qui se dressaient sur la piste... Que fait-il ?

.....

Chloé passa la cinquième et appuya à fond sur l'accélérateur... Que fait Chloé ?

.....

Josette appuya sur la pédale. Je vis l'aiguille sans arrêt monter et descendre, entraînant avec elle le fil. D'un geste habile, Josette glissa dessous deux morceaux d'étoffe rouge pour qu'ils n'en fassent plus qu'un... Que fait Josette ?

.....

Il souleva une lourde pelletée de terre qu'il déposa au pied du jeune chêne pour recouvrir les racines encore apparentes... Que fait-il ?

.....

Monique en avait assez de trimballer des boîtes de chaussures de la réserve au magasin. Elle aurait aimé que l'homme en choisisse enfin une paire. Hélas, il semblait faire partie de ces éternels indécis... Que fait l'homme ?

.....

Le Mocombo fumait. Soudain, son sommet explosa, projetant dans le ciel un amas de roches, de cendres et de gaz. Une nuée brûlante dévala les pentes, détruisant toute vie sur son passage... Que fait le Mocombo ?

.....

Pamela s'agrippait au tronc, coincé entre deux rochers, en plein milieu des rapides. Le fleuve, formant de puissants tourbillons, cherchait à éliminer cet obstacle. Soudain, Paméla aperçut, comme dans un rêve, un homme en combinaison rouge qui descendait du ciel. Deux mains la saisirent et la tirèrent vers le haut, l'arrachant aux flots tumultueux... Que fait l'homme en combinaison rouge ?

.....