

<i>Heures</i>		<i>Objectifs</i>
Penser à	Photocopier maths (15 ex) et français (x 1) distanciel	
8h45-9h	Rituels : appel de la cantine par le responsable, et vérifier si la couleur du comportement a été signée ; date en anglais	
9h-9h45	conjugaison Révisions ex sur le cahier	
9h45-10h20	lecture <i>Inférence x2</i> Production écrite Ecris 5 choses que tu ferais si tu te faisais enfermer à l'école pendant une nuit. Ecris ton texte sur le cahier du jour.	
10h25-10h40	Récréation (je suis de service)	
10h40-10h50	calcul mental a) 275 – 175 ; b) 475 – 205 ; c) 4 056 – 53 ; d) 4 132 – 2 021 ; e) 58 013 – 8 013 ; f) 475 – 235 ; g) 50 085 – 50 015 ; h) 9 176 – 5 054 ; i) 872 – 71 ; j) 5 215 – 2 005 a) 100 ; b) 270 ; c) 4 003 ; d) 2 111 ; e) 50 000 ; f) 240 ; g) 70 ; h) 4 122 ; i) 801 ; j) 3 210	
10h50-12h	Numération <i>La symétrie</i> séance exploitation Rappel + ex 2, 4 et 6 p 46 ; ex 7 et 8 p 47 + ex photocopié	Connaître les propriétés des triangles ; tracer des triangles
12h-13h45	Déjeuner	
13h45-14h15	Préparation de dictée (sur ardoise) : voir fiche dictée	Maitriser les relations entre l'oral et l'écrit. ; Acquérir la structure, le sens et l'orthographe des mots.
14h15-14h50	Questions culture générale	
14h50-15h00	Ecriture des devoirs	
15h05-15h20	Récréation	
15h00-15h45	Histoire <i>François 1er</i> Trace écrite + podcasts à écouter	
Devoirs • 📖		

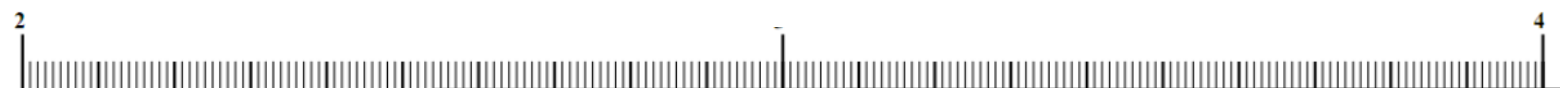
Place les nombres suivants sur la droite graduée ET range-les ensuite dans l'ordre croissant :

7,8 - 6,3 - 11,5 - 10,9 - 9,2 - 7,1 - 9,8 - 8,5 - 8,6



Place les nombres suivants sur la droite graduée ET range-les ensuite dans l'ordre décroissant :

3,40 - 2,05 - 2,99 - 2,25 - 3,32 - 3,75 - 3,08 - 2,60



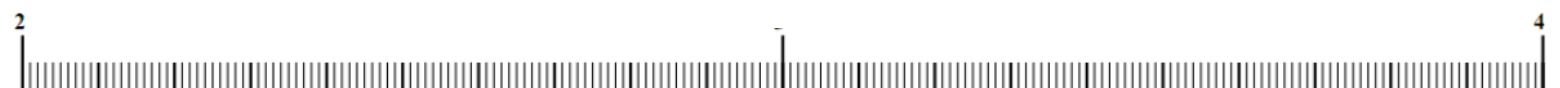
Place les nombres suivants sur la droite graduée ET range-les ensuite dans l'ordre croissant :

7,8 - 6,3 - 11,5 - 10,9 - 9,2 - 7,1 - 9,8 - 8,5 - 8,6



Place les nombres suivants sur la droite graduée ET range-les ensuite dans l'ordre décroissant :

3,40 - 2,05 - 2,99 - 2,25 - 3,32 - 3,75 - 3,08 - 2,60




Place les nombres suivants sur la droite graduée ET range-les ensuite dans l'ordre croissant :

7,8 - 6,3 - 11,5 - 10,9 - 9,2 - 7,1 - 9,8 - 8,5 - 8,6



Place les nombres suivants sur la droite graduée ET range-les ensuite dans l'ordre décroissant :

3,40 - 2,05 - 2,99 - 2,25 - 3,32 - 3,75 - 3,08 - 2,60



NATURE 86	NATURE 119	NATURE 130	NATURE 134
Comment appelle-t-on les pierres qui semblent suspendues au plafond dans les grottes ?	Le charbon est utilisé comme combustible. Il s'est formé il y a des millions d'années à partir de :	Les arbres et les plantes vertes purifient l'air grâce au processus de la photosynthèse, qui se déroule :	Les champignons comptent plus de 50 000 espèces. Combien d'espèces sont comestibles ?
A. Des stalacgouttes B. Des stalagmites C. Des stalactites	A. vestiges de volcans B. restes d'arbres et de plantes C. sable	A. le jour B. le jour et la nuit C. la nuit	A. Quelques dizaines B. Quelques centaines C. Quelques milliers

86 C/119 B/130 A / 134 B

Photosynthèse : plantes vertes absorbent l'air grâce à l'énergie lumineuse

SCIENCES 115	SCIENCES 126	SCIENCES 131	SCIENCES 138
Quel est le point d'ébullition de l'eau ?	Lorsque nous éternuons, l'air sort très vite de notre nez, mais à quelle vitesse ?	Si on compare le squelette d'un bébé et celui d'un adulte, qu'y a-t-il de spécial ?	Combien de sang comprend le corps adulte ?
A. 100 °C B. 0 °C C. 1 000 °C	A. 100 km/h B. 10 km/h C. 50 km/h	A. Un bébé a plus d'os qu'un adulte. B. Un adulte a plus d'os qu'un bébé. C. Un adulte a autant d'os qu'un bébé.	A. Environ 5 litres B. Environ 10 litres C. Environ 15 litres

115A / 126 A / 131 A /138A

MONDE 72	MONDE 73	MONDE 77	MONDE 85
Dans quel conte de fées n'y a-t-il pas de sorcière ?	La République d'Irlande se situe dans la partie sud de l'île d'Irlande. Sa capitale est :	Le parc national des Everglades en Floride (aux États-Unis) est célèbre pour :	Comment appelle-t-on un spationaute chinois ?
A. Le Petit Chaperon rouge B. Blanche-Neige C. Hansel et Gretel	A. Dublin B. Belfast C. Limerick	A. ses grottes B. son lac salé C. ses terres marécageuses	A. Un taïkonaute B. Un cosmonaute C. Un astronaute

72A / 73A / 77C /85A

SPORTS 382	SPORTS 389	SPORTS 390	SPORTS 402
Les jeux Olympiques d'hiver sont organisés tous les 4 ans. Ils ont lieu :	D'où le surf est-il originaire ?	Le handball est apparu vers la fin du XIX ^{ème} siècle en :	Comment appelle-t-on le sport de lutte japonais où un colosse doit mettre l'autre sur les genoux ou le pousser en dehors de la zone réglementaire ?
A. la même année que les jeux d'été B. 1 an après les jeux d'été C. 2 ans après les jeux d'été	A. D'Australie B. De Polynésie C. De Madagascar	A. Allemagne B. France C. Grande-Bretagne	A. Le sumo B. Le simo C. Le samo

382C / 389B / 390A / 402A

Exercice 1 : Recopie uniquement les phrases conjuguées au futur simple de l'indicatif.

- Ce plombier réparait bien les robinets.
- Elles partiront en vacances.
- Quelques enfants jouent dans le parc.
- M'emmèneras-tu au match de football ?
- Vous vous mettez ici.

Exercice 2 : Remplace les sujets de chaque phrase par ceux proposés entre parenthèses.

- Ils construiront la nouvelle maison l'été prochain. (Le maçon / Vous)
- Martin ira voir le match de football. (Mes cousines / Tu)
- On mangera tout à l'heure. (Nous / Ses amis)
- Elles écouteront l'histoire jusqu'au bout. (Je / Juliette et toi)

Exercice 3 : Souligne les verbes et réécris les phrases en conjuguant les verbes au futur.

- Ecrivons-nous une carte postale ?
- A-t-elle besoin d'aide ?
- Je comprends très bien vos problèmes.
- Vous marchez dans la rue.
- Peuvent-ils venir plus tôt ?
- Vous mangez ce délicieux gâteau.