

L'école à la maison : mardi 17 mars 2020

FRANÇAIS : Conjugaison, le futur simple de l'indicatif

Temps de travail écrit prévu : environ 30 minutes. Si tous les exercices ne sont pas faits en une fois, il est possible d'y revenir. L'élève travaille à son rythme. Ce temps est donné à titre indicatif.

- 1) Révise la leçon du lutin sur le futur simple : elle doit être sue et comprise. Il faut bien connaître les terminaisons. (5-10 minutes)
- 2) Sur le cahier du jour, écris la date et le titre puis souligne-les. Et réalise les exercices ci-dessous.

Exercice 1 : Réécris sur le cahier uniquement les verbes conjugués au futur simple.

tu quitteras – je percerai – nous perdons – vous utilisiez – il réussira – ils oublient – vous mordrez – elles saisiront – tu as visité – je répondrai

Exercice 2 : Lis et recopie sur le cahier chaque liste, trouve l'intrus et entoure le.

- a. je sautais – je marcherai – j'agirai – je tondrai
- b. nous frémirons – nous avancerons – nous établissons – nous prendrons
- c. elle fournira – elle distribua – elle correspondra – elle accompagnera
- d. vous aimerez – vous revendrez – vous retirez – vous servirez

Exercice 3 : Conjugue au futur les verbes aux personnes demandées

- a. **éplucher** : tu ... – vous ...
- b. **reculer** : je ... – nous ...
- c. **finir** : il ... – elles ...
- d. **réunir** : tu ... – vous ...
- e. **sortir** : elle ... – nous ...

Exercice 4 : Recopie les phrases et conjugue les verbes entre parenthèses au futur.

- a. Les facteurs (**trier**) le courrier.
- b. Ils (**surgir**) à l'intérieur du château.
- c. La maîtresse* (**distribuer**) les photocopies
- d. Je (**réunir**) toute ma famille pour Noël.
- e. Le jardinier (**élargir**) l'allée centrale.

MATHEMATIQUES : Numération, Fractions et mesures de longueurs

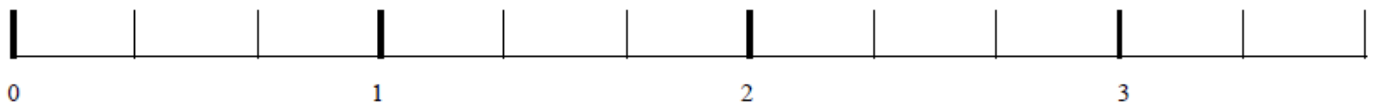
Temps de travail écrit prévu : environ 30 minutes. Si tous les exercices ne sont pas faits en une fois, il est possible d'y revenir. L'élève travaille à son rythme. Ce temps est donné à titre indicatif.

- 1) Révise la leçon de fractions et mesures de longueurs (je l'ai modifiée et envoyée en PDF en PJ). Cela peut prendre 5-10 minutes ?
- 2) Réalise les exercices ci-dessous

Exercice 1 : Place les fractions proposées sur les bandes. Regarde bien les écarts entre chaque nombre.

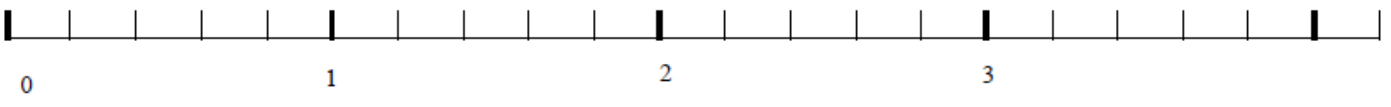
Tu places les points :

$$\frac{2}{3} \quad \frac{4}{3} \quad \frac{9}{3}$$



Tu places les points :

$$\frac{4}{5} \quad \frac{8}{5} \quad \frac{23}{10} \quad \frac{20}{5}$$




Tu places les points :

$$\frac{6}{10} \quad \frac{14}{10} \quad \frac{31}{10}$$



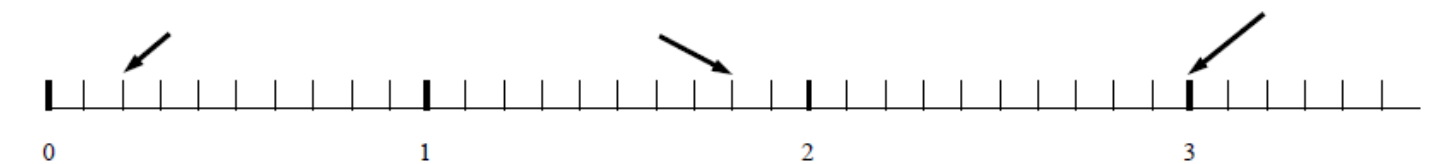
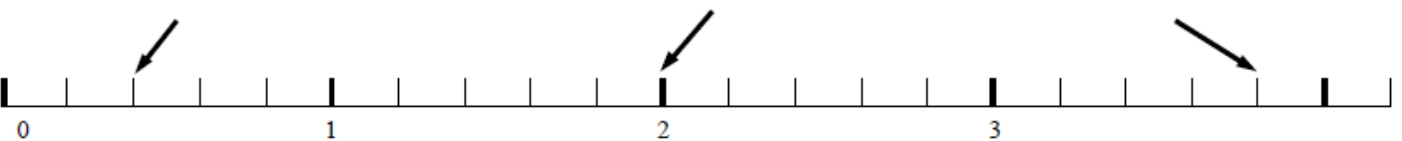
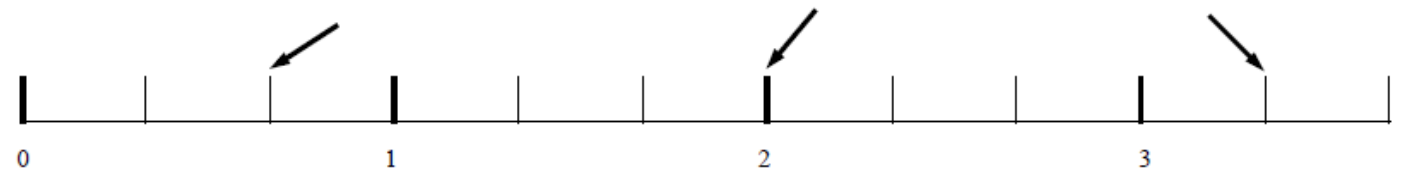
Exercice 2 : a) Reproduis la droite graduée ci-dessous sur ton cahier. Ou imprime la feuille et fais l'exercice dessus si tu peux



b) Place ensuite les fractions demandées sous la droite graduée. Pense à bien compter la droite graduée.

- a.** [AB] mesure $\frac{4}{6}$ de u. **c.** [EF] mesure $\frac{7}{6}$ de u.
b. [CD] mesure $\frac{2}{6}$ de u. **d.** [GH] mesure $\frac{9}{6}$ de u.

Exercice 3 : Ecris la fraction qui correspond aux flèches. Regarde bien les écarts pour trouver le bon dénominateur.



HISTOIRE : Charlemagne et les Carolingiens

Ce travail annule les questions commencées en classe sur le cahier bleu.

Lis les documents suivants et réponds aux questions sur le cahier bleu ou sur un document Word que tu pourras me renvoyer. Il est possible de prendre une photo de ta page de cahier avec les réponses et de me les transmettre par l'application Classroom ou par mail.

Temps de travail total prévu 30 minutes maximum. Si tous les travaux ne sont pas faits après ce temps ce n'est pas grave, tu pourras y revenir plus tard. Ce temps est donné à titre indicatif.

Réponds aux questions en faisant une phrase.

Document 1

Quinze rois de la dynastie des Carolingiens se succèdent à la tête du royaume franc de 751 à 987. Elle commence avec Pépin le Bref, mais le plus connu d'entre eux est Charlemagne qui devient roi en 768. Il agrandit beaucoup son royaume au cours des guerres successives. Il constitue un immense empire dans lequel il impose la religion chrétienne et dont la capitale est Aix-la-Chapelle. Charlemagne aide plusieurs fois le pape contre ses ennemis, resserrant ainsi les liens entre l'Eglise et royauté. En l'an 800, le jour de Noël, il est couronné empereur par le pape, à Rome.

- 1) Quel est le 1er roi de la dynastie des Carolingiens ?
- 2) En quelle année Charlemagne devient-il roi ?
- 3) Quelle est la capitale sous l'empire de Charlemagne ?

Document 2

Charlemagne 742-814

Charlemagne était un grand guerrier et un administrateur efficace.

La ville d'Aix-la-Chapelle, en Allemagne, était sa capitale. Il n'était pas très instruit, mais il aimait les arts et la culture. Il a développé les écoles religieuses.

Sous son règne, la civilisation franque devint très brillante.

- 4) Pourquoi Charlemagne était-il un grand roi ?

Document 3

Les missi dominici s'adressent aux comtes

Employez-vous à maintenir tous les droits de l'empereur tels qu'ils vous ont été précisés. Faites pleinement justice aux églises, aux veuves et aux orphelins. Envoyez-nous la liste de tous ceux qui seront rebelles ou désobéissants pour que nous agissions contre eux comme le veut l'empereur. Gardez cette lettre, lisez-la souvent et prenez-en soin pour que nous puissions vérifier si vous avez agi comme il le fallait.

D'après « les instructions des missi dominici aux comtes » IX^{ème} siècle, d'après Ch. De la Roncière, L'Europe au Moyen Age, tome I

5) Quel est le rôle des « Missi Dominici » ?